

**Επιτροπή Διαγωνισμού του περιοδικού «Ο μικρός Ευκλείδης»  
13<sup>ος</sup> Πανελλήνιος Μαθητικός Διαγωνισμός «Παιχνίδι και Μαθηματικά»**

**1-3-2019**

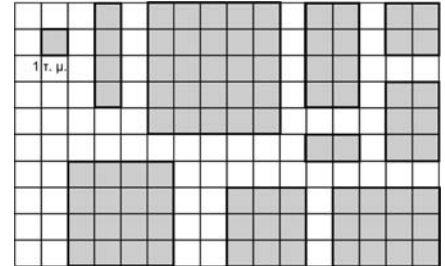
**Για μαθητές της ΣΤ΄ Τάξης Δημοτικού**

<b>Όνοματεπώνυμο:</b> .....	<b>Βαθμός</b>	
..... <b>Δημοτικό Σχολείο</b> .....	<b>Τάξη/Τμήμα</b>	

**ΘΕΜΑ 1<sup>ο</sup>**


Πόσα γραμμοσκιασμένα σχήματα έχουν εμβαδόν μεγαλύτερο από 6 τ.μ.; (Κύκλωσε το σωστό)

- A) 4    B) 5    Γ) 6    Δ) 8



**ΘΕΜΑ 2<sup>ο</sup>**

Το βούτυρο που αγόρασε ο κ. Γιάννης, ο ζαχαροπλάστης, ζυγίζει 1 κιλό. Το χώρισε αρχικά σε δύο ίσα κομμάτια. Στη συνέχεια το ένα από αυτά το χώρισε σε 4 ίσα κομμάτια. Πόσο ζυγίζει το καθένα από αυτά τα ίσα κομμάτια; (Κύκλωσε το σωστό)



- A) 80 γρ.    B) 125 γρ.    Γ) 100 γρ.    Δ) 180 γρ.

**ΘΕΜΑ 3<sup>ο</sup>**

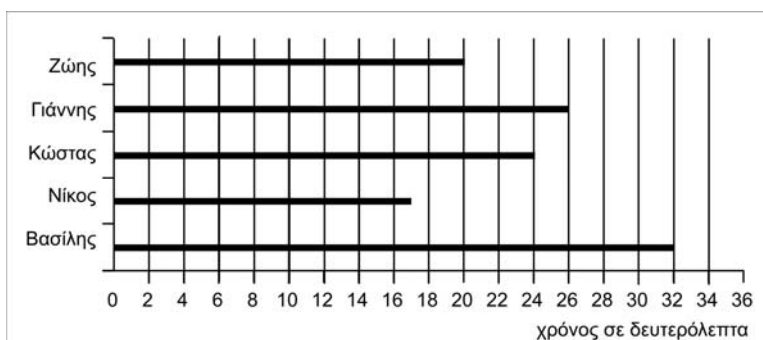
Η Ελένη ξόδεψε για μια σοκολάτα 1,15 €, για μια πορτοκαλάδα 80 λεπτά και για ένα τοστ 1,75 €. Πλήρωσε δίνοντας ένα χαρτονόμισμα των 5 € και για ρέστα ο ταμίας της έδωσε τρία κέρματα. Ποια ήταν η αξία του καθενός από αυτά ;

**Λύση**

**Απάντηση**

**ΘΕΜΑ 4ο**

Πέντε παιδιά πήραν μέρος σε έναν αγώνα δρόμου. Οι χρόνοι που έφεραν εμφανίζονται στο διάγραμμα. Πόσα δευτερόλεπτα ήταν η διαφορά ανάμεσα στο παιδί που τερμάτισε 1ο και σ' αυτό που τερμάτισε 2ο;



**Απάντηση:** ..... δευτερόλεπτα

**ΘΕΜΑ 5<sup>ο</sup>**

Η κ. Μαρία, για να φτιάξει μία δόση κουλουράκια χρειάζεται 800 γραμμάρια αλεύρι και 250 γραμμάρια ελαιόλαδο. Διαπίστωσε όμως ότι είχε μόνο 150 γραμμάρια ελαιόλαδο. Με πόσα γραμμάρια αλεύρι πρέπει να αναμείξει το ελαιόλαδο, για να κρατήσει την αναλογία σταθερή;

**Λύση**

**Απάντηση:** .....

### ΘΕΜΑ 6°

Ο Παναγιώτης και ο Λεωνίδας έχουν 60 ξυλάκια ίδιου μεγέθους. Παίρνοντας κάποια από αυτά, ο Λεωνίδας σχηματίζει ένα ισόπλευρο τρίγωνο χρησιμοποιώντας για κάθε πλευρά του 8 ξυλάκια. Με όλα τα υπόλοιπα ξυλάκια ο Παναγιώτης σχηματίζει ένα ορθογώνιο παραλληλόγραμμο του οποίου η μία πλευρά αποτελείται επίσης από 8 ξυλάκια. Από πόσα ξυλάκια θα αποτελείται η άλλη πλευρά του ορθογωνίου;

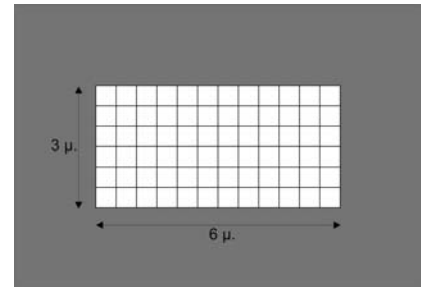


**Λύση**

**Απάντηση:** .....

### ΘΕΜΑ 7°

Στον διπλανό κήπο το εσωτερικό ορθογώνιο που είναι στρωμένο με πλάκες έχει διαστάσεις 6 μ. και 3 μ. Το υπόλοιπο μέρος του κήπου γύρω από αυτό, θα φυτευτεί με γρασίδι. Αν η απόσταση της κάθε πλευράς του εσωτερικού ορθογωνίου από την αντίστοιχη πλευρά του εξωτερικού ορθογωνίου είναι 2 μ., ποιο είναι το εμβαδόν του μέρους του κήπου που θα φυτευτεί;





**Λύση**

**Απάντηση:** .....

### ΘΕΜΑ 8°

Η Γεωργία χάλασε τον κύβο της εικόνας που έφτιαξε αρχικά και με τα κυβάκια του έφτιαξε τη δεύτερη κατασκευή. Πόσα κυβάκια της έχουν περισσέψει;



**Λύση**

**Απάντηση:** .....

### ΘΕΜΑ 9°

Αν ο Γιώργος αγοράσει 8 μολύβια, θα χρειαστεί 1,20 € επιπλέον από τα χρήματα που έχει. Εάν αγοράσει 9 μολύβια θα χρειαστεί 1,80 € επιπλέον από τα χρήματα που έχει. Πόσα μολύβια μπορεί να αγοράσει με τα χρήματα που έχει;



**Λύση**

**Απάντηση:** .....

### Θέμα 10°

Ένα ορθογώνιο παραλληλόγραμμο έχει εμβαδόν 60 τ.μ Ποιες μπορεί να είναι οι διαστάσεις του, αν αυτές είναι φυσικοί αριθμοί; Γράψε όλες τις δυνατές περιπτώσεις. Ποιο από αυτά έχει τη μικρότερη και ποιο τη μεγαλύτερη περίμετρο;

**Λύση**

**Απάντηση:** .....

Καλή Επιτυχία

ΣΤ' ΤΑΞΗ -2-